

**Sektion 1**

<b>Uppgift</b>	<b>Uppgiftstitel</b>	<b>Totalpoäng</b>	<b>Uppgiftstyp</b>
<b>i</b>	Tentamensinformation		Information eller resurser
1	Fråga 1	6	Essä
2	Fråga 2	6	Essä
3	Fråga 3	12	Essä
4	Fråga 4	6	Essä

# 1 Fråga 1

Konstsamlaren Arvid äger en tavla av en känd svensk konstnär (värde 200 000 kr). Arvid lämnar in tavlan till *Galleriet AB* för att de ska ställa ut den och eventuellt hitta en köpare och i så fall sälja den till kunden i eget namn för Arvids räkning. Arvid och Galleriet kommer överens om att tavlan inte får säljas under 180 000 kr.

Följande inträffar:

Galleriet säljer tavlan till Beatrice för endast 120 000 kr. Beatrice, som är konstkännare, tycker priset är misstänkt lågt men frågar inte vidare utan betalar och tar med sig tavlan hem direkt.













Två veckor senare blir tavlan stulen från Beatrices hem. Tjuven säljer tavlan till Cesar, som driver en seriös antikhandel. Cesar betalar marknadspris (200 000 kr) och kontrollerar noga att tavlan inte finns med i polisens register över stöldanmäld konst (som vid det laget inte hunnit uppdateras helt). Cesar ställer ut tavlan i sin butik.



Cesar säljer tavlan till Diana. Diana betalar tavlan men kommer överens med Cesar om att tavlan ska hänga kvar i butiken under en "Vernissage-helg" innan hon hämtar den. Under denna helg försätts antikhandeln i konkurs.

Utred vem som har bäst rätt till tavlan: Arvid, Beatrice, Diana eller Cesars konkursbo? Diskutera och analysera samtliga steg i överlåtelsekedjorna ovan.

Motivera ditt svar väl och hänvisa till relevanta rättskällor!

**Skriv ditt svar här. Ändringar sparas automatiskt.**

Teckenf...
B I U  $x_2$   $x^2$   $I_x$  |   |    |      |  


 $\Sigma$ 


Ord: 0

Totalpoäng: 6

## 2 Fråga 2

Erik, 52 år, arbetar som lagerarbetare och tjänar 28 000 kr i månaden före skatt. Efter en misslyckad restaurangsatsning för tio år sedan bär han på skulder till ett totalt belopp av 1,8 miljoner kronor. Skulderna består av banklån, skadestånd från en trafikolycka där han bedömdes som vållande (ej brottsligt uppsåt), samt en mängd mindre konsumtionskrediter som han tagit de senaste tre åren för att "täcka hålen".

Räntan på skulderna är hög, och trots att Kronofogden genomför löneutmätning sedan två år tillbaka, ökar totalskulden eftersom utmätningen inte ens täcker räntekostnaderna. Erik lever på existensminimum och ser ingen väg ut. Han ansöker nu om skuldsanering.

Några av hans borgenärer motsätter sig ansökan. En bank menar att han varit "oansvarig" som tagit nya lån nyligen, och offret i trafikolyckan menar att det är stötande att ett skadestånd ska kunna skrivas ner.

Du arbetar som jurist på Kronofogdens skuldsaneringsenhet. Utred utförligt om Erik uppfyller förutsättningarna för att beviljas skuldsanering och vilka förutsättningar som talar för eller emot ett beviljande.

Analysera även rättsverkan av en beviljad skuldsanering och vad som händer med eventuella skulder som inte ingår i betalningsplanen eller som inte anmälts av borgenärerna.

Motivera ditt svar väl och hänvisa till relevanta rättskällor.

**Skriv ditt svar här. Ändringar sparas automatiskt.**

Teckenf... | **B** | *I* | U |  $\times_2$  |  $\times^2$  |  $\int_x$  | | | | | | | | | |

|  $\Sigma$  |

Ord: 0

Totalpoäng: 6

### 3 Fråga 3

Snickeri & Design AB, som ägs av snickaren Anders, försätts i konkurs den 20 september 2025 efter egen ansökan. Du arbetar på den advokatbyrå som utsetts till konkursförvaltare. Vid din första genomgång av boet konstaterar du följande:

Bolaget har en fabriksbyggnad med ett uppskattat marknadsvärde på 2 100 000 kr. Maskiner, virke och färdiga möbler värderas till 1 200 000 kr.

Den 15 juni 2025 sålde bolaget en avancerad CNC-fräs till grannföretaget *Allfix KB* för 40 000 kr (marknadsvärde 80 000 kr). Fräsen står kvar i bolagets lokaler. Parterna har upprättat ett köpeavtal och registrerat detta enligt lösöreköpslagen hos Kronofogden i juli 2025.

Bolaget hyr en transportbil från *Finansbil AB* och bolaget har en möjlighet att köpa loss bilen på vissa i avtalet angivna villkor efter hyresperiodens slut.

I bolagets kassaskåp finns 80 000 kr i kontanter. Anders meddelar att 30 000 kr av dessa utgör likvider från försäljning av designlampor som bolaget sålt i kommission för märket *Lumen Design*. Pengarna ligger löst i ett kuvert märkt "Lumen".

I bokföringen hittas ett underskrivet gåvobrev daterat februari 2025, där bolaget lovar att skänka 50 000 kr till den lokala schackklubben som ett löpande skuldebrev. Inga pengar har ännu betalats ut.

Bolaget har vid några tillfällen varit tvungna att pantsätta verksamhetens fastighet. Bank Nord har givit en kredit om 600 000, de har en säkerhet i fastigheten genom en in-teckning från 2018 på 500 000. Bank Syd lånade 2023 ut 900 000, som säkerhet fick de ett pantbrev på 700 000. Bank Väst har en fordran på bolaget om 400 000. De har en in-teckning i fastigheten från 2021 som uppgår till 600 000.























Storbanken har fordringar på grund av lån till bolaget om 1 200 000 kr. Banken har företagshypotek enligt in-teckning om 1 000 000 kr uttaget 2020.




Bolaget har fyra anställda som kräver lön om totalt 500 000 kr. Bolaget har också en löneskuld till Anders för de senaste tre månaderna om 40 000 kr/månad. Vidare finns obetalda leverantörsskulder om 300 000 kr. Skatteskulderna uppgår till 70 000 kr.

Referensräntan uppges vara 2 %. Konkursansökan gjordes den 20 september 2025 och medlen bör kunna fördelas den 20 mars 2026.

Din uppgift är nu för förvaltarens räkning utförligt utreda boet så långt det går med hjälp av ovanstående uppgifter. Utred borgenärernas sakrättsliga ställning, eventuella återvinningsanspråk samt det förmånsrättsliga läget för de olika posterna. Glöm inte att motivera ditt svar ordentligt och hänvisa till relevanta rättskällor.

**Skriv ditt svar här. Ändringar sparas automatiskt.**

Teckenf...
B I U x<sub>2</sub> x<sup>2</sup> | I<sub>x</sub> |   |   |     |   |   |   |   |   |   |  

 |  | 

Ord: 0

---

Totalpoäng: 12

## 4 Fråga 4

Mikael driver bolaget *Bygg & Design AB*. Under våren 2025 hamnar bolaget i en djup kris då en stor kund ställer in sina betalningar. Mikael inser i maj att bolaget är på obestånd, men han vägrar ge upp. Mellan maj och konkursutbrottet i september 2025 vidtar han följande åtgärder:

I juni ansöker Mikael om ett nytt företagslån på 500 000 kr hos en bank. För att få lånet beviljat visar han upp en förfalskad orderlista som ser ut att garantera intäkter på flera miljoner kronor under hösten. Banken betalar ut pengarna.

Mikael säljer bolagets grävmaskin (värd 400 000 kr) till sin kusin för 50 000 kr. Syftet är att maskinen ska finnas kvar i "familjens ägo" efter konkursen. Han låter dessutom bli att bokföra försäljningen.

I augusti väljer Mikael att betala en gammal leverantörsskuld till sin barndomsvän på 200 000 kr, trots att han har skatteskulder och andra leverantörsskulder på över en miljon som har förfallit långt tidigare.

När konkursförvaltaren tar över upptäcks att Mikael har slängt alla kvitton och fakturor från de sista tre månaderna i en container för att "det ändå var för rörigt".

Analysera Mikael's agerande utifrån ett straffrättsligt perspektiv. Vilka brott kan Mikael ha gjort sig skyldig till och varför?

Motivera ditt svar väl och hänvisa till relevanta rättskällor.

**Skriv ditt svar här. Ändringar sparas automatiskt.**

Teckenf... ▾ | **B** *I* U  $x_2$   $x^2$  |  $I_x$  | | | | |

|  $\Sigma$  |

Ord: 0

Totalpoäng: 6